

# 静岡県の地図を広げて

## (1) 方位で表してみよう

静岡県の周りの様子を調べてみました。県の南側と東側は海に面しています。西側には、愛知県があり、北側は長野県や山梨県、東側は神奈川県ととなりあっています。

次に吉田町の場所を確かめてみました。吉田町は、静岡県の中では南の方にあり、東側は駿河湾に面していることがわかりました。

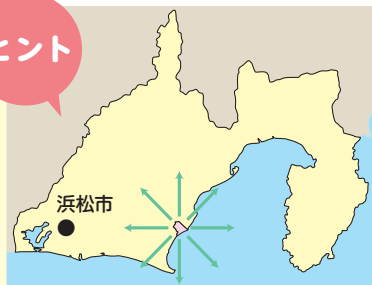


北東や南西など八つの方角のよび方を「八方位」といいます。富士山は北と東の間にあるから、「北東」の方角にあるということになります。

## 静岡県の地図を見てクイズを作ろう！

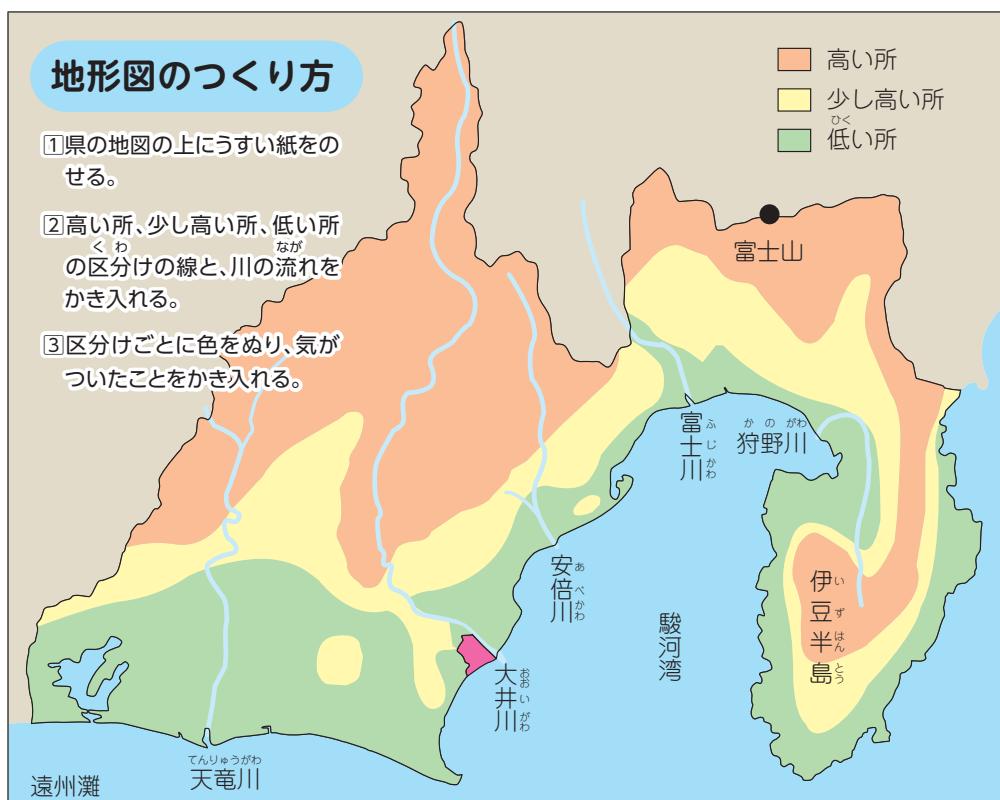
- 1 浜松市は、吉田町から見るとどの方角になるでしょうか？

ヒント



## (2) 県の土地の様子


静岡県の地図に、うすい紙をおいて、地形図をつくり、県の土地の様子を調べ、気がついたことを話し合いましょう。



静岡県の北の方は、高い山地になっているよ。

吉田町のある県の南の方は、低くて平らな土地になっているよ。

海の近くは、低くて平らな土地が多いね。



### (3) 県の人たちの暮らし

静岡県には、たくさんの市や町があります。静岡県内の市や町について、いろいろな場所を調べ、静岡県のイラストマップを作ってみましょう。

まず、県のどこで、どのような農林水産物のうりん すいさんぶつが作られているか調べてみました。



のうさんぶつ ぜんこくじゅんい さんしゅつがく  
農産物における静岡県の全国順位(産出額)

1位	2位	3位	4位	5位	農林水産省 令和3年度農業産出額及び 生産農業所得(都道府県別)
わさび ガーベラ 荒茶	茶(生葉) セロリ 観葉植物 ばら チンゲン菜	みかん	レタス メロン みつば	いちご 玉ねぎ しょうが 切り枝 しそ トルコキキョウ 花き類	
6位	7位	8位	9位	10位	計
ばれいしょ きく(切り花) さといも	鶏卵 ねぎ カーネーション キウイフルーツ マンゴー 芝	さやえんどう はちみつ	かんしよ 非結球つけな	トマト たけのこ いちじく	35品目

次に、県内の各地で作られた農産物や工業製品は、どのようにしてほかの市や県外に運ばれているのか、調べてみました。

県の主な鉄道や道路の広がりを交通マップに表しました。



交通マップを見て気がついたことをまとめましょう。

- 道路や鉄道はどのようなところを通っているでしょうか？
- 道路や鉄道は、どのような県や市とつながっているでしょうか？